

# TCSiON CAE

## Notations :

- 1.Options shown in green color and with ✓ icon are correct.
- 2.Options shown in red color and with ✗ icon are incorrect.

<b>Question Paper Name :</b>	ACTIVE - Driver
<b>Subject Name :</b>	Common Test for Driver Office Subordinate
<b>Actual Answer Key :</b>	Yes
<b>Calculator :</b>	None
<b>Magnifying Glass Required? :</b>	No
<b>Ruler Required? :</b>	No
<b>Eraser Required? :</b>	No
<b>Scratch Pad Required? :</b>	No
<b>Rough Sketch/Notepad Required? :</b>	No
<b>Protractor Required? :</b>	No
<b>Show Watermark on Console? :</b>	Yes
<b>Highlighter :</b>	No
<b>Auto Save on Console?</b>	Yes
<b>Change Font Color :</b>	No
<b>Change Background Color :</b>	No
<b>Change Theme :</b>	No
<b>Help Button :</b>	No
<b>Show Reports :</b>	No
<b>Show Progress Bar :</b>	No
<b>Is this Group for Examiner? :</b>	No
<b>Examiner permission :</b>	Cant View
<b>Show Progress Bar? :</b>	No

**Enable Mark as Answered Mark for Review and Clear Response :**

Yes

**Maximum Instruction Time :**

0

**Is Section Default? :**

null

**Question Number : 1 Question Id : 630680149126 Is Question Mandatory : No Calculator :**

**None Response Time : N.A Think Time : N.A Minimum Instruction Time : 0**

**Correct Marks : 1**

Who among the following has become the new Chief Secretary of Andhra Pradesh, whose tenure will be up to 30 June 2024?

క్రింది వారిలో, పదవీకాలం 30 జూన్ 2024 వరకు ఉండేలా ఆంధ్రప్రదేశ్ రాష్ట్ర నూతన ప్రధాన కార్యదర్శిగా ఎవరు బాధ్యతలు చేపట్టారు?

**Options :**

1. ✓ Jawahar Reddy

జవహర్ రెడ్డి

2. ✗ Poonam Malakondaiah

పూనం మాలకొండయ్య

3. ✗ Sameer Sharma

సమీర్ శర్మ

4. ✗ Krishna Murali

కృష్ణ మురళి

**Question Number : 2 Question Id : 630680149127 Is Question Mandatory : No Calculator :**

**None Response Time : N.A Think Time : N.A Minimum Instruction Time : 0**

**Correct Marks : 1**

In November 2022, MUFG Bank, a bank in \_\_\_\_\_, signed an MoU to promote investments in Andhra Pradesh.

నవంబర్ 2022లో, \_\_\_\_\_కు చెందిన బ్యాంక్ అయిన MUFG బ్యాంక్, ఆంధ్రప్రదేశ్‌లో పెట్టుబడులను ప్రోత్సహించడానికి ఒక అవగాహన ఒప్పందంపై సంతకం చేసింది.

**Options :**

1. ✘ Indonesia

ఇండోనేషియా

2. ✔ Japan

జపాన్

3. ✘ China

చైనా

4. ✘ Finland

ఫిన్లాండ్

**Question Number : 3 Question Id : 630680149128 Is Question Mandatory : No Calculator :**

**None Response Time : N.A Think Time : N.A Minimum Instruction Time : 0**

**Correct Marks : 1**

How many cities from Andhra Pradesh were awarded with the 'Water Plus' certification under the Swachh Bharat Mission and Swachh Survekshan, 2021?

స్వచ్ఛ భారత్ మిషన్ మరియు స్వచ్ఛ సర్వేక్షన్, 2021 కింద ఆంధ్రప్రదేశ్ రాష్ట్రంలోని ఎన్ని నగరాలు 'వాటర్ ప్లస్' సర్టిఫికేషన్ అవార్డులను పొందాయి?

**Options :**

1. ✘ Two

రెండు

2. ✖ Five

ఐదు

3. ✔ Three

మూడు

4. ✖ Four

నాలుగు

**Question Number : 4 Question Id : 630680149129 Is Question Mandatory : No Calculator :  
None Response Time : N.A Think Time : N.A Minimum Instruction Time : 0**

**Correct Marks : 1**

The Andhra Pradesh Government launched an education scheme in the year 2020 for the students in government schools, under which school kits were distributed to those students. Name the scheme.

2020 సంవత్సరంలో, ప్రభుత్వ పాఠశాలల్లోని విద్యార్థుల కోసం ఆంధ్రప్రదేశ్ ప్రభుత్వం ఒక విద్యా పథకాన్ని ప్రారంభించి, దీని కింద ఆ విద్యార్థులకు స్కూల్ కిట్లను పంపిణీ చేశారు. ఆ పథకం పేరు తెలుపండి.

**Options :**

1. ✖ YSR Cheyuta

వైఎస్ఆర్ చేయూత

2. ✖ Nadu-Nedu

నాడు-నేడు

3. ✔ Jaganna Vidya Kanuka

జగనన్న విద్యా కానుక

4. ✖ Amma Vodi

అమ్మ బడి

Question Number : 5 Question Id : 630680149130 Is Question Mandatory : No Calculator :  
None Response Time : N.A Think Time : N.A Minimum Instruction Time : 0

Correct Marks : 1

With which of the following freedom fighters was the Kotappakonda case that took place in Andhra Pradesh during 1909 related?

1909లో ఆంధ్రప్రదేశ్‌లో జరిగిన కోటప్పకొండ కేసు క్రింది స్వతంత్ర సమరయోధులలో ఎవరికి సంబంధించినది?

Options :

1. ✘ Alluri Sitarama Raju

అల్లూరి సీతారామరాజు

2. ✔ Chinnapa Reddy

చిన్నప రెడ్డి

3. ✘ Uyyalawada Narasimha Reddy

ఉయ్యాలవాడ నరసింహ రెడ్డి

4. ✘ Gottipati Brahmaiah

గొట్టిపాటి బ్రహ్మయ్య

Question Number : 6 Question Id : 630680149131 Is Question Mandatory : No Calculator :  
None Response Time : N.A Think Time : N.A Minimum Instruction Time : 0

Correct Marks : 1

The conduct of all the elections to the municipalities shall be vested in the State Election Commission referred to in Article \_\_\_\_.

మునిసిపాలిటీల మొత్తం ఎన్నికల నిర్వహణ రాష్ట్ర ఎన్నికల కమిషన్‌కు అప్పగించబడుతుంది అని \_\_\_\_\_ అధికరణంలో

సూచించబడినది.

**Options :**

1. ✘ 241-K

241-K

2. ✘ 242-K

242-K

3. ✔ 243-K

243-K

4. ✘ 245-K

245-K

**Question Number : 7 Question Id : 630680149132 Is Question Mandatory : No Calculator :  
None Response Time : N.A Think Time : N.A Minimum Instruction Time : 0**

**Correct Marks : 1**

Who administers the oath of office to the Chief Justice of the High Court in a state?

ఒక రాష్ట్రంలో హైకోర్టు ప్రధాన న్యాయమూర్తిలో ఎవరు ప్రమాణ స్వీకారం చేయిస్తారు?

**Options :**

1. ✔ Governor of the state

రాష్ట్ర గవర్నర్

2. ✘ Chief Minister of the state

రాష్ట్ర ముఖ్యమంత్రి

3. ✘ President of India

భారత రాష్ట్రపతి

4. ✘ Chief Justice of India

భారత ప్రధాన న్యాయమూర్తి

Question Number : 8 Question Id : 630680149133 Is Question Mandatory : No Calculator :  
None Response Time : N.A Think Time : N.A Minimum Instruction Time : 0

Correct Marks : 1

Which of the following cities is proposed to be the executive capital of Andhra Pradesh from April 2023?

ఏప్రిల్ 2023 నుండి ఆంధ్రప్రదేశ్ కార్యనిర్వాహక రాజధానిగా క్రింది ఏ నగరాన్ని ప్రతిపాదించారు?

Options :

1. ✘ Amaravati

అమరావతి

2. ✘ Kurnool

కర్నూలు

3. ✔ Visakhapatnam

విశాఖపట్నం

4. ✘ Vijayawada

విజయవాడ

Question Number : 9 Question Id : 630680149134 Is Question Mandatory : No Calculator :  
None Response Time : N.A Think Time : N.A Minimum Instruction Time : 0

Correct Marks : 1

Which is another name for Arma Konda, the tallest mountain in Andhra Pradesh?

ఆంధ్రప్రదేశ్‌లోని ఎత్తైన కొండ అయినట్టి అర్మ కొండకు గల మరొక పేరు ఏమిటి?

Options :

1. ✘ Galikonda

గాలికొండ

2. ✔ Sitamma Konda

సీతమ్మ కొండ

3. ✘ Kappa Konda

కప్ప కొండ

4. ✘ Devadu Konda

దేవుడు కొండ

**Question Number : 10 Question Id : 630680149135 Is Question Mandatory : No Calculator :**

**None Response Time : N.A Think Time : N.A Minimum Instruction Time : 0**

**Correct Marks : 1**

Diamond is NOT found in which of the following districts in Andhra Pradesh?

ఆంధ్రప్రదేశ్‌లోని క్రింది ఏ జిల్లాలో డైమండ్ కనుగొనబడదు?

**Options :**

1. ✘ Krishna

కృష్ణా

2. ✘ Kurnool

కర్నూలు

3. ✘ Anantapur

అనంతపురం

4. ✔ Prakasam



**Question Number : 11 Question Id : 630680149136 Is Question Mandatory : No Calculator :  
None Response Time : N.A Think Time : N.A Minimum Instruction Time : 0**

**Correct Marks : 1**

In which state does the river Krishna originate?

కృష్ణా నది ఏ రాష్ట్రంలో ఉద్భవిస్తుంది?

**Options :**

1. ✘ Telangana

తెలంగాణ

2. ✘ Karnataka

కర్ణాటక

3. ✘ Madhya Pradesh

మధ్యప్రదేశ్

4. ✔ Maharashtra

మహారాష్ట్ర

**Question Number : 12 Question Id : 630680149137 Is Question Mandatory : No Calculator :  
None Response Time : N.A Think Time : N.A Minimum Instruction Time : 0**

**Correct Marks : 1**

'Brahmam Okate' is the composition of which noted poet and musician?

'బ్రహ్మమొక్కటి' అనేది ఏ ప్రముఖ కవి మరియు సంగీతకారుని స్వరకల్పన?

**Options :**

1. ✘ Shyama Sastri

శ్యామ శాస్త్రి

2. ✖ Purandaradasa

పురందరదాసు

3. ✔ Annamacharya

అన్నమాచార్య

4. ✖ Tyagaraja

త్యాగరాజు

**Question Number : 13 Question Id : 630680149138 Is Question Mandatory : No Calculator :  
None Response Time : N.A Think Time : N.A Minimum Instruction Time : 0  
Correct Marks : 1**

Which person from Kakinada authored the book 'Folk Music of Andhra Pradesh'?

క్రింది వారిలో కాకినాడకు చెందిన ఏ వ్యక్తి 'ఫోక్ మ్యూజిక్ ఆఫ్ ఆంధ్ర ప్రదేశ్' పుస్తకాన్ని రచించారు?

**Options :**

1. ✖ Dr. Damodara Ganapathi Rao

డాక్టర్. దామోదర గణపతి రావు

2. ✔ Vinjamuri Seetha Devi

వింజమూరి సీతా దేవి

3. ✖ Ghantasala

ఘంటసాల

4. ✖ Vinjamuri Anasuya

వింజమూరి అనసూయ

Question Number : 14 Question Id : 630680149139 Is Question Mandatory : No Calculator :

None Response Time : N.A Think Time : N.A Minimum Instruction Time : 0

Correct Marks : 1

What was the full name of Annamacharya?

అన్నమాచార్య పూర్తి పేరు ఏమిటి?

Options :

1. ✘ Cuddapah Annamacharya

కడప అన్నమాచార్య

2. ✔ Tallapaka Annamacharya

తాళ్లపాక అన్నమాచార్య

3. ✘ Palkonda Annamacharya

పాల్కొండ అన్నమాచార్య

4. ✘ Pulivendula Annamacharya

పులివెందుల అన్నమాచార్య

Question Number : 15 Question Id : 630680149140 Is Question Mandatory : No Calculator :

None Response Time : N.A Think Time : N.A Minimum Instruction Time : 0

Correct Marks : 1

Young girls arrange their dolls in a beautiful way as part of Sankranti. What is the name for this?

సంక్రాంతి పండుగలో భాగంగా చిన్న అమ్మాయిలు వారి బొమ్మలను అందంగా ఒక రీతిలో అమరుస్తారు. దానిని ఏమని పిలుస్తారు?

Options :

1. ✔ Bommala Koluvu

బొమ్మల కొలువు

2. ✘ Kodi Pandem

కోడి పందెం

3. ✖ Patangala Poteelu

పతంగుల పోటీలు

4. ✖ Bhogi Pallu

భోగి పళ్ళు

**Question Number : 16 Question Id : 630680149141 Is Question Mandatory : No Calculator :**

**None Response Time : N.A Think Time : N.A Minimum Instruction Time : 0**

**Correct Marks : 1**

Which village, about 60 kms from Vijayawada, is said to be the birthplace of a famous dance form of Andhra Pradesh?

విజయవాడ నుండి 60 కిలోమీటర్ల దూరంలో ఉన్న ఏ గ్రామం ఆంధ్రప్రదేశ్‌లోని ప్రసిద్ధ నృత్య రూపకానికి జన్మస్థలంగా చెప్పబడుతుంది?

**Options :**

1. ✖ Bommalaata

బొమ్మలాట

2. ✖ Kalamkari

కళంకారి

3. ✔ Kuchipudi

కూచిపూడి

4. ✖ Bharatnatyam

భరతనాట్యం

Question Number : 17 Question Id : 630680149142 Is Question Mandatory : No Calculator :

None Response Time : N.A Think Time : N.A Minimum Instruction Time : 0

Correct Marks : 1

The colours for kalamkari were traditionally obtained from \_\_\_\_\_.

కలంకారీ రంగులు సాంప్రదాయకంగా \_\_\_\_\_ నుండి తీసుకోబడతాయి.

Options :

1. ✘ synthetic dyes

సింథటిక్ రంగులు

2. ✔ vegetable dyes

కూరగాయల రంగులు

3. ✘ powdered stones

పొడర్డ్ రాళ్ళు

4. ✘ skins of animals

జంతువుల చర్మాలు

Question Number : 18 Question Id : 630680149143 Is Question Mandatory : No Calculator :

None Response Time : N.A Think Time : N.A Minimum Instruction Time : 0

Correct Marks : 1

The folk dance 'Butta Bommalu' is performed during festivals. Which is the main part of the costumes?

'బుట్ట బొమ్మలు' అనే జానపద నృత్యం పండుగల సమయంలో ప్రదర్శించబడుతుంది. వాటికి సంబంధించిన దుస్తులలో క్రింది వాటిలో ఏవి ప్రధాన భాగంగా ఉంటాయి?

Options :

1. ✘ Baskets made of mango tree wood strips

మామిడి చెట్టు చెక్క బద్దలతో చేసిన బుట్టలు

2. ✓ Baskets made of bamboo strips

వెదురు బద్దలతో చేసిన బుట్టలు

3. ✘ Baskets made of neem tree wood strips

వేప చెట్టు చెక్క బద్దలతో చేసిన బుట్టలు

4. ✘ Baskets made of beech tree wood strips

బీచ్ చెట్టు చెక్క బద్దలతో చేసిన బుట్టలు

**Question Number : 19 Question Id : 630680149144 Is Question Mandatory : No Calculator :  
None Response Time : N.A Think Time : N.A Minimum Instruction Time : 0**

**Correct Marks : 1**

Which silk sarees were woven especially for royalty, in the Nellore district of Andhra Pradesh

ఆంధ్రప్రదేశ్‌లోని నెల్లూరు జిల్లాలో రాజకుటుంబీకుల కోసం ప్రత్యేకంగా ఏ పట్టు చీరలు నేస్తారు?

**Options :**

1. ✘ Uppada

ఉప్పాడ

2. ✘ Dharmavaram

ధర్మవరం

3. ✘ Mangalagiri

మంగళగిరి

4. ✓ Venkatagiri

వెంకటగిరి

**Question Number : 20 Question Id : 630680149145 Is Question Mandatory : No Calculator :**

**None Response Time : N.A Think Time : N.A Minimum Instruction Time : 0**

**Correct Marks : 1**

Who among the following cricketers have been named among five players in Wisden's 'Cricketers of the year' in the 2022 edition of the Wisden Almanack?

విస్డెన్ అల్మానాక్ 2022 ఎడిషన్‌లో విస్డెన్స్ 'క్రికెటర్స్ ఆఫ్ ది ఇయర్'లోని ఐదుగురు ఆటగాళ్లలో క్రింది క్రికెటర్లలో ఎవరు ఉన్నారు?

**Options :**

1. ✘ Rohit Sharma and Virat Kohli

రోహిత్ శర్మ మరియు విరాట్ కోహ్లా

2. ✔ Jasprit Bumrah and Rohit Sharma

జస్ప్రిత్ బుమ్రా మరియు రోహిత్ శర్మ

3. ✘ KL Rahul and Rishabh Pant

కెఎల్ రాహుల్ మరియు రిషబ్ పంత్

4. ✘ Suryakumar Yadav and R Ashwin

సూర్యకుమార్ యాదవ్ మరియు ఆర్ అశ్విన్

**Question Number : 21 Question Id : 630680149146 Is Question Mandatory : No Calculator :**

**None Response Time : N.A Think Time : N.A Minimum Instruction Time : 0**

**Correct Marks : 1**

The fifth Khelo India Youth Games 2022 will be held in which of the following states?

ఐదవ ఖేలో ఇండియా యూత్ గేమ్స్ 2022 క్రింది ఏ రాష్ట్రంలో జరగనున్నది?

**Options :**

1. ✘ Kerala

కేరళ

2. ✖ Andhra Pradesh

ఆంధ్రప్రదేశ్

3. ✔ Madhya Pradesh

మధ్యప్రదేశ్

4. ✖ New Delhi

న్యూఢిల్లీ

**Question Number : 22 Question Id : 630680149147 Is Question Mandatory : No Calculator :  
None Response Time : N.A Think Time : N.A Minimum Instruction Time : 0**

**Correct Marks : 1**

Who among the following became the first woman president of the Indian Olympic Association (IOA) in December 2022?

క్రింది వారిలో, డిసెంబర్ 2022లో భారత బలింపిక్ సంఘం (IOA)కి ఎవరు మొదటి మహిళా అధ్యక్షురాలయ్యారు?

**Options :**

1. ✖ PV Sindhu

పివి సింధు

2. ✔ PT Usha

పిటి ఉష

3. ✖ Saina Nehwal

సైనా నెహ్రవల్

4. ✖ Jwala Gutta

జ్వాలా గుత్తా



**Question Number : 23 Question Id : 630680149148 Is Question Mandatory : No Calculator :  
None Response Time : N.A Think Time : N.A Minimum Instruction Time : 0**

**Correct Marks : 1**

Which of the following states hosted the Track Asia Cup 2022 Cycling Tournament which is one of the biggest cycling events and will be held at LNCPE Outdoor Velodrome in November 2022?

నవంబర్ 2022లో LNCPE అవుట్‌డోర్ వెలోడ్రోమ్‌లో నిర్వహించబడ్డ అతిపెద్ద సైక్లింగ్ ఈవెంట్‌లలో ఒకటైన ట్రాక్ ఆసియా కప్ 2022 సైక్లింగ్ టోర్నమెంటుకు క్రింది ఏ రాష్ట్రం ఆతిథ్యమిచ్చింది?

**Options :**

1. ✘ Gujarat

గుజరాత్

2. ✘ Chhattisgarh

ఛత్తీస్‌గఢ్

3. ✘ Karnataka

కర్ణాటక

4. ✔ Kerala

కేరళ

**Question Number : 24 Question Id : 630680149149 Is Question Mandatory : No Calculator :  
None Response Time : N.A Think Time : N.A Minimum Instruction Time : 0**

**Correct Marks : 1**

Which of the following campaigns launched in August 2022 focuses on the cognitive development of children in the first two years of its life?

క్రింది వాటిలో ఆగస్టు 2022లో ప్రారంభించబడిన ఏ ప్రచారం, పిల్లల మొదటి రెండు సంవత్సరాల జీవితంలోని అభిజ్ఞా వికాసంపై దృష్టికేంద్రికరిస్తుంది?

**Options :**

1. ✘ POSHAN Abhiyaan

పోషణ్ అభియాన్

2. ✘ 100-day Aashwasan Campaign

100 రోజుల ఆశ్వాసన్ ప్రచారం

3. ✔ Paalan 1000

పాలన్ 1000

4. ✘ SAKSHAM' campaign

'SAKSHAM' ప్రచారం

**Question Number : 25 Question Id : 630680149150 Is Question Mandatory : No Calculator :**

**None Response Time : N.A Think Time : N.A Minimum Instruction Time : 0**

**Correct Marks : 1**

Who among the following is a union law secretary to be appointed as a judge of a high court for the first time in India?

క్రింది వారిలో, భారతదేశంలో మొదటిసారిగా హైకోర్టు న్యాయమూర్తిగా నియమితులైన యూనియన్ లా సెక్రటరీ(కేంద్ర న్యాయశాఖ కార్యదర్శి) ఎవరు?

**Options :**

1. ✔ Anoop Kumar Mendiratta

అనూప్ కుమార్ మెండిరట్ట

2. ✘ Sanjeev Sachdeva

సంజీవ్ సచ్ దేవ

3. ✘ Mukta Gupta

ముక్తా గుప్తా

4. ✖ Rajiv Shakhder

రాజీవ్ శక్ధేర్

**Question Number : 26 Question Id : 630680149151 Is Question Mandatory : No Calculator :**

**None Response Time : N.A Think Time : N.A Minimum Instruction Time : 0**

**Correct Marks : 1**

The first chairman of the Asian Palm Oil Alliance during the first general body meeting was elected from which of the following countries?

మొదటి జనరల్ బాడీ మీటింగ్( సర్వసభ్య సమావేశం)లో ఏషియన్ పామ్ ఆయిల్ అలయన్స్ యొక్క మొదటి చైర్మన్‌ను క్రింది ఏ దేశం నుండి ఎన్నుకున్నారు?

**Options :**

1. ✓ India

భారతదేశం

2. ✖ Pakistan

పాకిస్తాన్

3. ✖ Nepal

నేపాల్

4. ✖ Bangladesh

బంగ్లాదేశ్

**Question Number : 27 Question Id : 630680149152 Is Question Mandatory : No Calculator :**

**None Response Time : N.A Think Time : N.A Minimum Instruction Time : 0**

**Correct Marks : 1**

Panini wrote the master book of grammar in Sanskrit which set the linguistic standards for

Classical Sanskrit named:

సంస్కృతంలో 'పాణినీ' వ్రాసిన వ్యాకరణ గ్రంథం సాంప్రదాయ సంస్కృతానికి భాషా ప్రమాణాలను నిర్దేశించింది. ఆ గ్రంథం పేరు:

**Options :**

1. ✘ Gaha Saptashati

గహ సప్తశతి

2. ✘ Abhishekanatakam

అభిషేకనాటకం

3. ✘ Praitimanatakam

ప్రతిమనాటకం

4. ✔ Ashtadhyayi

అష్టాధ్యాయి

**Question Number : 28 Question Id : 630680149153 Is Question Mandatory : No Calculator :**

**None Response Time : N.A Think Time : N.A Minimum Instruction Time : 0**

**Correct Marks : 1**

The Rowlatt Act was passed by the British government in \_\_\_\_ to increase their grip on power over the common folk and which gave them the power to arrest any person without any trial.

సామాన్య ప్రజానీకంపై అధికారంపై పట్టు పెంచడానికి బ్రిటిష్ ప్రభుత్వం రౌలట్ చట్టాన్ని \_\_\_\_లో ఆమోదించింది మరియు ఇది ఎలాంటి విచారణ లేకుండానే ఎవరినైనా అరెస్టు చేసే అధికారాన్ని వారికి కల్పించింది.

**Options :**

1. ✘ 1916

1916

2. ✘ 1917

1917

3. ✖ 1918

1918

4. ✔ 1919

1919

**Question Number : 29 Question Id : 630680149154 Is Question Mandatory : No Calculator : None Response Time : N.A Think Time : N.A Minimum Instruction Time : 0**

**Correct Marks : 1**

\_\_\_\_\_ was a free thinker and a rationalist who promoted radical ideas and encouraged his pupils to question all authority and started the movement referred to as the Young Bengal Movement.

ఒక స్వేచ్ఛా ఆలోచనాపరుడు మరియు ఒక హేతువాదిగా అతివాద ఆలోచనలను ప్రోత్సహించి, అధికారులందరినీ ప్రశ్నించేలా తన విద్యార్థులను ప్రోత్సహించిన మరియు యంగ్ బెంగాల్ ఉద్యమంగా సూచించబడే ఉద్యమాన్ని ప్రారంభించిన వ్యక్తి \_\_\_\_\_.

**Options :**

1. ✖ Nawab Abdul Latif

నవాబ్ అబ్దుల్ అతీఫ్

2. ✔ Henry Louis Vivian Derozio

హెన్రీలూయిస్ వివియన్ డెరోజియో

3. ✖ Mirza Ghulam Ahmed

మీర్జా గులాం అహ్మద్

4. ✖ Gopal Hari Deshmukh

గోపాల్ హరి దేశ్ముఖ్

**Question Number : 30 Question Id : 630680149155 Is Question Mandatory : No Calculator :**

**None Response Time : N.A Think Time : N.A Minimum Instruction Time : 0**

**Correct Marks : 1**

Which of the following statement is/are true about Brahmo Samaj set up by Raja Ram Mohan Roy in 1828?

- A. It forbade idol-worship
- B. It forbade its members from attacking any religion
- C. It believed in the basic unity of all the religions

1828లో రాజా రామ్ మోహన్ రాయ్ స్థాపించిన బ్రహ్మ సమాజం గురించి క్రింది ప్రకటనలలో ఏది/ఏవి సత్యం?

- A. ఇది విగ్రహారాధనను నిషేధించింది
- B. దాని సభ్యులు ఏ మతంపైనా దాడి చేయకుండా ఇది నిషేధించింది
- C. ఇది మతాలన్నింటి ప్రాథమిక ఐక్యతను విశ్వసించింది.

**Options :**

1. ✖ Only A

A మాత్రమే

2. ✖ Both A and B

A మరియు B రెండూ

3. ✖ Both B and C

B మరియు C రెండూ

4. ✔ A, B and C

A, B మరియు C

**Question Number : 31 Question Id : 630680149156 Is Question Mandatory : No Calculator :**

**None Response Time : N.A Think Time : N.A Minimum Instruction Time : 0**

**Correct Marks : 1**

Which of the following statement is/are NOT true about the Vernacular Press Act of 1878?

A. The Vernacular Press Act was passed in 1878 by Lord Northbrook.

B. The Vernacular Press Act was also enacted in an effort to silence those who were critical of the government.

C. The Act allowed the government to confiscate the assets of newspapers including their printing presses if the newspapers published anything that was found objectionable.

1878 వెర్నాక్యులర్ ప్రెస్ చట్టం గురించి క్రింది ప్రకటనలలో ఏది/ఏవి సత్యం కాదు?

A. వెర్నాక్యులర్ ప్రెస్ చట్టం లార్డ్ నార్త్ బ్రూక్ చే ఆమోదించబడింది.

B. వెర్నాక్యులర్ ప్రెస్ చట్టం ప్రభుత్వాన్ని విమర్శించే వారి నోరు మూయించే ప్రయత్నంలో కూడా చట్టంగా చేయబడింది.

C. వార్తాపత్రికలు అభ్యంతరకరంగా ఏదైనా ప్రచురించినట్లయితే, వాటి ప్రింటింగ్ ప్రెస్లతో సహా వార్తాపత్రికల ఆస్తులను జప్తు చేయడానికి ఈ చట్టం ప్రభుత్వాన్ని అనుమతించింది.

**Options :**

1. ✓ Only A

A మాత్రమే

2. ✖ Both A and B

A మరియు B రెండూ

3. ✖ Both B and C

B మరియు C రెండూ

4. ✖ A, B and C

A, B మరియు C

**Question Number : 32 Question Id : 630680149157 Is Question Mandatory : No Calculator :**

**None Response Time : N.A Think Time : N.A Minimum Instruction Time : 0**

**Correct Marks : 1**

The Union List, State List and the Concurrent List is included in which Schedule of the Indian Constitution?

భారత రాజ్యాంగంలోని ఏ షెడ్యూల్‌లో కేంద్ర జాబితా, రాష్ట్ర జాబితా మరియు ఉమ్మడి జాబితా చేర్చబడ్డాయి?

**Options :**

1. ✖ Eighth Schedule

ఎనిమిదవ షెడ్యూల్

2. ✔ Seventh Schedule

ఏడవ షెడ్యూల్

3. ✖ Tenth Schedule

పదవ షెడ్యూల్

4. ✖ Twelfth Schedule

పన్నెండవ షెడ్యూల్

**Question Number : 33 Question Id : 630680149158 Is Question Mandatory : No Calculator :**

**None Response Time : N.A Think Time : N.A Minimum Instruction Time : 0**

**Correct Marks : 1**



The 73rd Amendment Act, 1992 of the Constitution was responsible for adding a new part IX consisting of 16 Articles and the \_\_\_\_\_ Schedule to the Constitution.

రాజ్యాంగం లోని 73వ సవరణ చట్టం 1992, రాజ్యాంగానికి 16 అధికరణాలు మరియు \_\_\_\_\_ షెడ్యూల్‌తో కూడిన కొత్త భాగం IX ని జోడించడానికి బాధ్యత వహిస్తుంది.

**Options :**

1. ✘ Fifth

ఐదవ

2. ✘ Sixth

ఆరవ

3. ✘ Eighth

ఎనిమిదవ

4. ✔ Eleventh

పదకొండవ

**Question Number : 34 Question Id : 630680149159 Is Question Mandatory : No Calculator : None Response Time : N.A Think Time : N.A Minimum Instruction Time : 0**

**Correct Marks : 1**

When a President is to be impeached for violation of the Constitution, the charge shall be preferred by \_\_\_\_\_.

రాజ్యాంగాన్ని ఉల్లంఘించినందుకు రాష్ట్రపతి అభిశంసనకు గురైనప్పుడు, ఆరోపణ \_\_\_\_\_ చేయవలెను.

**Options :**

1. ✘ Chief Justice of India

భారత ప్రధాన న్యాయమూర్తి

2. ✔ Either House of Parliament

పార్లమెంటు ఉభయ సభలలో ఏదేనీ

3. ✖ Prime Minister

ప్రధాన మంత్రి

4. ✖ Supreme Court of India

భారత సర్వోన్నత న్యాయస్థానం

**Question Number : 35 Question Id : 630680149160 Is Question Mandatory : No Calculator :**

**None Response Time : N.A Think Time : N.A Minimum Instruction Time : 0**

**Correct Marks : 1**

\_\_\_\_\_is a traditional folk dance of Nagaland during the Naknyulüm festival in the month of July. This dance is performed in praise of the birthplace of mankind and therefore the earth.

జూలై నెలలో నక్యులం (Naknyulüm) పండుగ సందర్భంగా ప్రదర్శించు నాగాలాండ్ సాంప్రదాయ జానపద నృత్యం\_\_\_\_\_. ఈ నృత్యం మానవాళి జన్మస్థలాన్ని మరియు భూమిని కీర్తిస్తూ ప్రదర్శించబడుతుంది.

**Options :**

1. ✖ Chang Lo Dance

చాంగ్ లో నృత్యం

2. ✖ Monyu Asho Dance

మోన్యు ఆషో నృత్యం

3. ✔ Changsang Dance

చాంగ్ సాంగ్ నృత్యం

4. ✖ Angushu Kighilhe Dance

అంగుషు కిఘిల్లే నృత్యం

Question Number : 36 Question Id : 630680149161 Is Question Mandatory : No Calculator :

None Response Time : N.A Think Time : N.A Minimum Instruction Time : 0

Correct Marks : 1

\_\_\_\_\_ is a folk ballad form performed predominantly in Chhattisgarh. It depicts the story of the Pandavas, the leading characters in the epic Mahabharata.

ఛత్తీస్‌గఢ్‌లో ప్రధానంగా ప్రదర్శించబడే జానపద బల్లాడ్ (వీరగాథ) రూపకం \_\_\_\_\_. ఇది మహాభారత ఇతిహాసంలోని ప్రధాన పాత్రలైన పాండవుల కథను వర్ణిస్తుంది.

Options :

1. ✘ Raut Nacha

రౌత్ నాచా

2. ✘ Panthi dance

పంతి నృత్యం

3. ✘ Sua Nacha

సువా నాచా

4. ✔ Pandwani Dance

పాండవనీ నృత్యం

Question Number : 37 Question Id : 630680149162 Is Question Mandatory : No Calculator :

None Response Time : N.A Think Time : N.A Minimum Instruction Time : 0

Correct Marks : 1

\_\_\_\_\_ is a Maharashtra and Goan folk dance performed by the women in the Konkan region during Hindu religious festivals like Ganesh Chaturthi and Vrata.

గణేశ్ చతుర్థి మరియు వ్రత వంటి హిందూ మతపరమైన పండుగల సమయంలో కొంకణ్ ప్రాంతంలోని మహిళలు ప్రదర్శించే మహారాష్ట్ర మరియు గోవాకు చెందిన జానపద నృత్యం \_\_\_\_\_.

Options :

1. ✓ Fugdi

పుద్ది

2. ✘ Cherav

చేరవ్

3. ✘ Karma Naanch

కర్మ నాంచ్

4. ✘ Chauu

చౌవు

**Question Number : 38 Question Id : 630680149163 Is Question Mandatory : No Calculator :  
None Response Time : N.A Think Time : N.A Minimum Instruction Time : 0**

**Correct Marks : 1**

Buland Darwaza or the loft gateway was built by whom among the following great Mughal emperors in 1601 A.D. at Fatehpur Sikri?

ఫతేపూర్ సిక్రీలో బులంద్ దర్వాజా లేదా మిద్దెలాంటి సింహద్వారాన్ని 1601 A.D.లో క్రింది గొప్ప మొఘల్ చక్రవర్తులలో ఎవరు నిర్మించారు?

**Options :**

1. ✘ Babur

బాబర్

2. ✓ Akbar

అక్బర్

3. ✘ Jahangir

జహంగీర్

#### 4. ✖ Shah Jahan

షాజహాన్

**Question Number : 39 Question Id : 630680149164 Is Question Mandatory : No Calculator :  
None Response Time : N.A Think Time : N.A Minimum Instruction Time : 0  
Correct Marks : 1**

The Gol Gumbaz is the second largest dome in the world, second in size only to St. Peter's Basilica, Rome. Where is Gol Gumbaz situated?

గోల్ గుంబజ్ అనునది ప్రపంచంలో రెండవ అతిపెద్ద గుమ్మటం మరియు పరిమాణంలో ఇది రోమ్ లోని సెయింట్ పీటర్స్ బసిలికా తర్వాత రెండవది. గోల్ గుంబజ్ ఎక్కడ నెలకొని ఉంది?

**Options :**

1. ✔ Karnataka

కర్ణాటక

2. ✖ New Delhi

న్యూఢిల్లీ

3. ✖ Rajasthan

రాజస్థాన్

4. ✖ Andhra Pradesh

ఆంధ్రప్రదేశ్

**Question Number : 40 Question Id : 630680149165 Is Question Mandatory : No Calculator :  
None Response Time : N.A Think Time : N.A Minimum Instruction Time : 0  
Correct Marks : 1**

Rani-ki-Vav (The Queen's Stepwell) is an outstanding example of a subterranean stepwell construction and represents a prime example of an architectural type of water resource and

storage system of the Indian subcontinent was inscribed as a UNESCO heritage site in 2014.

Where is this located?

భూగర్భ మెట్లబావి నిర్మాణానికి అత్యుత్తమ ఉదాహరణగా నిలిచిన మరియు భారత ఉపఖండంలోని నీటి వనరులు మరియు నిల్వ వ్యవస్థ యొక్క నిర్మాణ రకానికి ప్రధాన ఉదాహరణగా నిలిచిన రాణి-కీ-వావ్ (రాణిగారి మెట్ల బావి) 2014లో యునెస్కో వారసత్వ ప్రదేశంగా లిఖించబడింది. ఇది ఎక్కడ నెలకొని ఉంది?

**Options :**

1. ✘ Kerala

కేరళ

2. ✘ Rajasthan

రాజస్థాన్

3. ✔ Gujarat

గుజరాత్

4. ✘ Jharkhand

జార్ఖండ్

**Enable Mark as Answered Mark for Review and**

Yes

**Clear Response :**

**Maximum Instruction Time :**

0

**Is Section Default? :**

null

**Question Number : 41 Question Id : 630680148178 Is Question Mandatory : No Calculator :**

**None Response Time : N.A Think Time : N.A Minimum Instruction Time : 0**

**Correct Marks : 1**

Select the most appropriate meaning of the given idiom.

Save the best for last

**Options :**

1. ✓ Reserve something pleasant for the final moment
2. ✗ Save money for difficult times
3. ✗ Choose one's friends very carefully
4. ✗ Enjoy the largest portion of dessert

**Question Number : 42 Question Id : 63068069825 Is Question Mandatory : No Calculator :**

**None Response Time : N.A Think Time : N.A Minimum Instruction Time : 0**

**Correct Marks : 1**

Select the most appropriate idiomatic expression for the underlined word.

As a performer, he is too old to be of much value. He just can't dance or sing as he could a few years ago.

**Options :**

1. ✗ past his patience
2. ✗ past his patent
3. ✗ past his previous strength
4. ✓ past his prime

**Question Number : 43 Question Id : 630680113241 Is Question Mandatory : No Calculator :**

**None Response Time : N.A Think Time : N.A Minimum Instruction Time : 0**

**Correct Marks : 1**

Select the correct spelling for the misspelt word in the given sentence.

We should not loose faith during difficult times.

**Options :**

1. ✗ loss
2. ✓ lose
3. ✗ loos
4. ✗ louse

**Question Number : 44 Question Id : 630680113244 Is Question Mandatory : No Calculator :**

**None Response Time : N.A Think Time : N.A Minimum Instruction Time : 0**

**Correct Marks : 1**

Select the correct spelling for the misspelt word in the given sentence.

Influential people should be very careful of what they do.

**Options :**

1. ✘ Influentiall

2. ✘ Inffluential

3. ✔ Influential

4. ✘ Influential

**Question Number : 45 Question Id : 63068069094 Is Question Mandatory : No Calculator :**

**None Response Time : N.A Think Time : N.A Minimum Instruction Time : 0**

**Correct Marks : 1**

Select the most appropriate ANTONYM of the given word.

Productive

**Options :**

1. ✘ Prolific

2. ✘ Fruitful

3. ✘ Creative

4. ✔ Ineffectual

**Question Number : 46 Question Id : 630680112333 Is Question Mandatory : No Calculator :**

**None Response Time : N.A Think Time : N.A Minimum Instruction Time : 0**

**Correct Marks : 1**

Select the most appropriate word that is OPPOSITE in meaning to the word in the bracket, to fill in the blank.

He was being \_\_\_\_\_ about his unconventional ways of working. (reserved)

**Options :**



1. ✘ secretive
2. ✘ manipulative
3. ✔ candid
4. ✘ reticent

**Question Number : 47 Question Id : 630680126864 Is Question Mandatory : No Calculator :  
None Response Time : N.A Think Time : N.A Minimum Instruction Time : 0**

**Correct Marks : 1**

Select the most appropriate synonym to fill in the blank.

I waited too long, now my \_\_\_\_\_ is wearing out.(tolerance)

**Options :**

1. ✘ fatigue
2. ✘ peace
3. ✔ patience
4. ✘ calmness

**Question Number : 48 Question Id : 630680126952 Is Question Mandatory : No Calculator :  
None Response Time : N.A Think Time : N.A Minimum Instruction Time : 0**

**Correct Marks : 1**

Select the most appropriate synonym of the word given in brackets to fill in the blank.

Traditional people are working to maintain the community's cultural \_\_\_\_ (virtue).

**Options :**

1. ✘ calamity
2. ✔ integrity
3. ✘ momentum
4. ✘ power

**Question Number : 49 Question Id : 630680115435 Is Question Mandatory : No Calculator :**

**None Response Time : N.A Think Time : N.A Minimum Instruction Time : 0**

**Correct Marks : 1**

Select the option that can be used as a one-word substitute for the given group of words.

A person who thinks that bad things are more likely to happen

**Options :**

1. ✘ Narcissist
2. ✘ Enthusiast
3. ✘ Optimist
4. ✔ Pessimist

**Question Number : 50 Question Id : 630680148218 Is Question Mandatory : No Calculator :**

**None Response Time : N.A Think Time : N.A Minimum Instruction Time : 0**

**Correct Marks : 1**

Select the option that can be used as a one-word substitute for the given group of words.

One who is in charge of a museum or art gallery

**Options :**

1. ✘ Patent
2. ✘ Connoisseur
3. ✔ Curator
4. ✘ Patron

**Enable Mark as Answered Mark for Review and Clear Response :**

Yes

**Maximum Instruction Time :**

0

**Is Section Default? :**

null

**Question Number : 51 Question Id : 630680148369 Is Question Mandatory : No Calculator :**

**None Response Time : N.A Think Time : N.A Minimum Instruction Time : 0**

**Correct Marks : 1**

Five persons Bina, Deepa, Ina, Mukti and Reena are sitting in a straight line facing north. Mukti is to the immediate left of Deepa. Ina is third to the left of Reena. Bina is to the immediate right of Reena. Who is sitting to the immediate right of Ina?

బీనా, దీప, ఐనా, ముక్తి మరియు రీనా అనే ఐదుగురు వ్యక్తులు ఒక సరళరేఖలో ఉత్తరాభిముఖంగా కూర్చున్నారు. దీపకు తక్షణమే ఎడమవైపున ముక్తి కూర్చొని వుంది. రీనాకు ఎడమవైపున మూడవస్థానంలో ఐనా కూర్చొని వుంది. రీనాకు తక్షణమే కుడివైపున బీనా కూర్చొని వుంది. ఐనాకు తక్షణమే కుడివైపున ఎవరు కూర్చున్నారు?

**Options :**

1. ✘ Deepa

దీప

2. ✘ Reena

రీనా

3. ✔ Mukti

ముక్తి

4. ✘ Bina

బీనా

**Question Number : 52 Question Id : 630680148370 Is Question Mandatory : No Calculator : None Response Time : N.A Think Time : N.A Minimum Instruction Time : 0**

**Correct Marks : 1**

Six friends K, L, M, N, P and R are sitting around a circular table facing the centre but not necessarily in the same order. Only L is sitting between M and N. Only K is sitting between N and R. M is to the immediate right of P. Who is sitting to the immediate right of R?

ఆరుగురు స్నేహితులు K, L, M, N, P మరియు Rలు ఒక గుండ్రటి టేబుల్ చుట్టూ కేంద్రాభిముఖంగా కూర్చున్నారు, కానీ పైన పేర్కొన్న అదే క్రమంలో కూర్చోవాల్సిన అవసరం లేదు. M మరియు Nల మధ్య L మాత్రమే కూర్చొని ఉన్నాడు. N మరియు Rల

మధ్య K మాత్రమే కూర్చోని ఉన్నాడు. Pకి తక్షణమే కుడివైపున M కూర్చోని ఉన్నాడు. Rకి తక్షణమే కుడివైపున ఎవరు కూర్చున్నారు?

**Options :**

1. ✓ P

P

2. ✗ K

K

3. ✗ L

L

4. ✗ M

M

**Question Number : 53 Question Id : 630680148371 Is Question Mandatory : No Calculator :**

**None Response Time : N.A Think Time : N.A Minimum Instruction Time : 0**

**Correct Marks : 1**

In a class of 52 students, Latika scores less marks than 14 students only. Arpia scores more marks than 16 students only. How many students score more marks than Arpia but less marks than Latika?

52 మంది విద్యార్థులు గల ఒక తరగతిలో, లతిక 14 మంది విద్యార్థుల కంటే మాత్రమే తక్కువ మార్కులను పొందింది. అర్పియా 16 మంది విద్యార్థుల కంటే మాత్రమే ఎక్కువ మార్కులు పొందింది. ఎంతమంది విద్యార్థులు అర్పియా కంటే ఎక్కువ మరియు లతిక కంటే తక్కువ మార్కులను పొందారు?

**Options :**

1. ✗ 18

18

2. ✓ 20

20

3. ✖ 22

22

4. ✖ 24

24

**Question Number : 54 Question Id : 630680148372 Is Question Mandatory : No Calculator :  
None Response Time : N.A Think Time : N.A Minimum Instruction Time : 0**

**Correct Marks : 1**

Each of P, Q, R, S, T, U and V has an exam on a different day of a week, starting from Monday and ending on Sunday of the same week. P's exam is just before R's. V's exam is just after T's. U's exam is on Monday. Q's exam is on Friday. V's exam is on Sunday. R's exam is just before S's. Whose exam is on Wednesday?

P, Q, R, S, T, U మరియు Vలలో ప్రతి ఒక్కరు, సోమవారంతో ప్రారంభమై ఆదివారంతో ముగిసే ఒకే వారంలోని వేర్వేరు రోజులలో, పరీక్షలకు హాజరవుతున్నారు. P యొక్క పరీక్ష R యొక్క పరీక్షకు అక్షణమే ముందు రోజు ఉంటుంది. V యొక్క పరీక్ష T యొక్క పరీక్షకు అక్షణమే తర్వాతి రోజు ఉంటుంది. U యొక్క పరీక్ష సోమవారం రోజున ఉంటుంది. Q యొక్క పరీక్ష శుక్రవారం రోజున ఉంటుంది. V యొక్క పరీక్ష ఆదివారం రోజున ఉంటుంది. R యొక్క పరీక్ష S యొక్క పరీక్షకు అక్షణమే ముందు రోజు ఉంటుంది. బుధవారం రోజున ఎవరి పరీక్ష ఉంటుంది?

**Options :**

1. ✔ R

R

2. ✖ P

P

3. ✖ T

T

4. ✖ S

S

**Question Number : 55 Question Id : 630680148373 Is Question Mandatory : No Calculator :**

**None Response Time : N.A Think Time : N.A Minimum Instruction Time : 0**

**Correct Marks : 1**

Read the given statements and conclusions carefully. Assuming that the information given in the statements is true, even if it appears to be at variance with commonly known facts, decide which of the given conclusions logically follow(s) from the statements.

**Statements:**

All bottles are cups.

Some bottles are plates.

**Conclusions:**

I. Some cups are plates.

II. Some cups are bottles.

ఇచ్చిన ప్రవచనాలు మరియు పర్యవసానాలను జాగ్రత్తగా చదవండి. ఇచ్చిన ప్రవచనాలు సాధారణంగా తెలిసిన వాస్తవాలకు భిన్నంగా ఉన్నట్లు అనిపించినప్పటికీ వాటిని వాస్తవంగా పరిగణించండి. పర్యవసానాలన్నింటినీ చదవి, ప్రవచనాల నుండి ఇచ్చిన పర్యవసానాలలో ఏది తార్కికంగా అనుసరిస్తుందో నిర్ణయించండి.

**ప్రవచనాలు:**

బాటిళ్ళన్నీ కప్పులు.

కొన్ని బాటిళ్ళు ప్లేట్లు.

పర్యవసానాలు:

I. కొన్ని కప్పులు ప్లేట్లు.

II. కొన్ని కప్పులు బాటిళ్ళు.

**Options :**

1. ✘ Only conclusion I follows

పర్యవసానం I మాత్రమే అనుసరిస్తుంది

2. ✘ Only conclusion II follows

పర్యవసానం II మాత్రమే అనుసరిస్తుంది

3. ✔ Both conclusions I and II follow

పర్యవసానాలు I మరియు II రెండూ అనుసరిస్తాయి

4. ✘ Neither conclusion I nor II follows

పర్యవసానాలు I లేదా II ఏదీ అనుసరించదు

**Question Number : 56 Question Id : 630680148374 Is Question Mandatory : No Calculator :  
None Response Time : N.A Think Time : N.A Minimum Instruction Time : 0**

**Correct Marks : 1**

Read the given statements and conclusions carefully. Assuming that the information given in the statements is true, even if it appears to be at variance with commonly known facts, decide which of the given conclusions logically follow(s) from the statements.

**Statements:**

All parks are houses.

No house is a garden.

**Conclusions:**

I. Some parks are gardens.

II. No park is a garden.

ఇచ్చిన ప్రవచనాలు మరియు పర్యవసానాలను జాగ్రత్తగా చదవండి. ఇచ్చిన ప్రవచనాలు సాధారణంగా తెలిసిన వాస్తవాలకు భిన్నంగా ఉన్నట్లు అనిపించినప్పటికీ వాటిని వాస్తవంగా పరిగణించండి. పర్యవసానాలన్నింటినీ చదవి, ప్రవచనాల నుండి ఇచ్చిన పర్యవసానాలలో ఏది తార్కికంగా అనుసరిస్తుందో నిర్ణయించండి.

ప్రవచనాలు:

పార్కులన్నీ గృహాలు.

ఏ గృహం కూడా తోట కాదు

పర్యవసానాలు:

I. కొన్ని పార్కులు తోటలు

II. ఏ పార్కు కూడా తోట కాదు

**Options :**

1. ✘ Only conclusion I follows

పర్యవసానం I మాత్రమే అనుసరిస్తుంది

2. ✔ Only conclusion II follows

పర్యవసానం II మాత్రమే అనుసరిస్తుంది

3. ✘ Both conclusions I and II follow



పర్యవసానాలు I మరియు II రెండూ అనుసరిస్తాయి

4. ✖ Neither conclusion I nor II follows

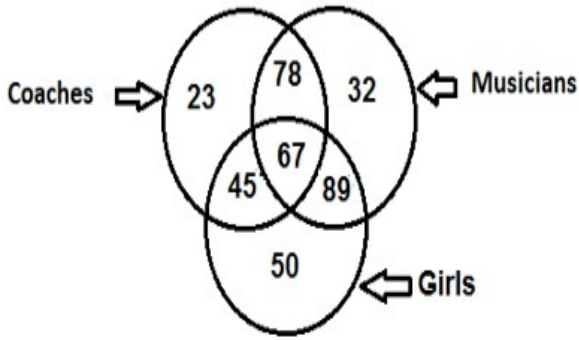
పర్యవసానాలు I లేదా II ఏదీ అనుసరించదు

Question Number : 57 Question Id : 630680148375 Is Question Mandatory : No Calculator :

None Response Time : N.A Think Time : N.A Minimum Instruction Time : 0

Correct Marks : 1

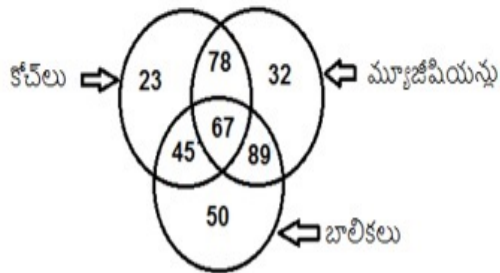
Study the given diagram carefully and answer the question that follows. The numbers in different sections indicate the number of persons.



How many musicians are girls but are NOT coaches?

ఇచ్చిన వేన్ చిత్రాన్ని జాగ్రత్తగా పరిశీలించి దాని క్రింద ఇచ్చిన ప్రశ్నకు సమాధానం ఇవ్వండి.

వేర్వేరు విభాగాల్లోని సంఖ్యలు వ్యక్తుల సంఖ్యను సూచిస్తాయి.



బాలికలు అయ్యి, కోచ్లు కాని మ్యూజిషియన్లు ఎంతమంది?

Options :

1. ✖ 67

2. ✖ 45

45

3. ✔ 89

89

4. ✖ 78

78

**Question Number : 58 Question Id : 630680148376 Is Question Mandatory : No Calculator :  
None Response Time : N.A Think Time : N.A Minimum Instruction Time : 0**

**Correct Marks : 1**

Among six boys P, Q, R, S, T and U; T scores less marks than S only. P scores more marks than U. Q scores less marks than U. R scores more marks than only three other persons. Who scores the least marks?

P, Q, R, S, T మరియు U అనే ఆరుగురు అబ్బాయిలలో; S కంటే మాత్రమే T తక్కువ మార్కులను పొందాడు. U కంటే P ఎక్కువ మార్కులను పొందాడు. U కంటే Q తక్కువ మార్కులను పొందాడు. వేరే ముగ్గురు వ్యక్తుల కంటే మాత్రమే R ఎక్కువ మార్కులను పొందాడు. అందరి కంటే తక్కువ మార్కులను పొందిన వ్యక్తి ఎవరు?

**Options :**

1. ✖ S

S

2. ✖ U

U

3. ✔ Q

Q

4. ✖ P

P

**Question Number : 59 Question Id : 630680148377 Is Question Mandatory : No Calculator :  
None Response Time : N.A Think Time : N.A Minimum Instruction Time : 0**

**Correct Marks : 1**

Select the alphanumeric-cluster from among the given options that can replace the question mark (?) in the following series.

HMB-3, KPE-6, NSH-10, QVK-15, TYN-21, ?

ఇచ్చిన ఐచ్చికాల నుండి క్రింది శ్రేణిలోని ప్రశ్నార్థకాన్ని (?) భర్తీ చేయగల ఆల్ఫాన్యూమరిక్ సమూహాన్ని ఎంచుకోండి.

HMB-3, KPE-6, NSH-10, QVK-15, TYN-21, ?

**Options :**

1. ✘ XBQ-28

XBQ-28

2. ✘ WBR-27

WBR-27

3. ✘ WCQ-30

WCQ-30

4. ✔ WBQ-28

WBQ-28

**Question Number : 60 Question Id : 630680148378 Is Question Mandatory : No Calculator :  
None Response Time : N.A Think Time : N.A Minimum Instruction Time : 0**

**Correct Marks : 1**

Select the combination of letters that when sequentially placed in the blanks of the given series

will complete the series.

G \_ C \_ R \_ F C N \_ G F \_ \_ R

ఇచ్చిన అక్షర శ్రేణిలోని ఖాళీలలో వరుసగా ఉంచినప్పుడు శ్రేణిని పూర్తి చేయు అక్షరాల కలయికను ఎంచుకోండి.

G \_ C \_ R \_ F C N \_ G F \_ \_ R

**Options :**

1. ✓ F N G R C N

F N G R C N

2. ✗ F N G F C N

F N G F C N

3. ✗ G N F R C N

G N F R C N

4. ✗ F N G R N C

F N G R N C

**Question Number : 61 Question Id : 630680148379 Is Question Mandatory : No Calculator :**

**None Response Time : N.A Think Time : N.A Minimum Instruction Time : 0**

**Correct Marks : 1**

How many such pairs of letters are there in the word PSORIASIS which have as many letters between them as in the English alphabetical series? (Count both in the forward and backward directions)

'PSORIASIS' అనే పదంలో, ఏవేనీ రెండక్షరాల మధ్య ఉండే అక్షరాల సంఖ్య ఆంగ్ల అక్షరమాల క్రమంలో అవే రెండక్షరాల మధ్య ఉండే అక్షరాల సంఖ్యకు సమానమయ్యేలా ఎన్ని అక్షరాల జతలు ఉన్నాయి ? (ముందుకు మరియు వెనుకకు ఇరువైపులా లెక్కించండి)

**Options :**

1. ✘ One

ఒకటి

2. ✔ Two

రెండు

3. ✘ Three

మూడు

4. ✘ Four

నాలుగు

**Question Number : 62 Question Id : 630680148380 Is Question Mandatory : No Calculator :**

**None Response Time : N.A Think Time : N.A Minimum Instruction Time : 0**

**Correct Marks : 1**

Refer to the given number, letter series and answer the question that follows.

(Left) G 6 H 4 A 3 E F 3 2 W C 5 N 7 M 6 8 P L 3 A Z 5 S Y 4 R T 8 E 9 A L 9 (Right)

If all the vowels in the above string are deleted, then which would be the 5th letter/number from the right end in the remaining string?

ఇచ్చిన సంఖ్యలు, అక్షర శ్రేణిని పరిశీలించి క్రింది ప్రశ్నకు సమాధానం ఇవ్వండి.

(ఎడమవైపు) G 6 H 4 A 3 E F 3 2 W C 5 N 7 M 6 8 P L 3 A Z 5 S Y 4 R T 8 E 9 A L 9 (కుడివైపు)

పై శ్రేణిలోని అచ్చులన్నింటినీ తొలగించినచో, మిగిలిన శ్రేణిలో కుడి చివర నుండి 5వ అక్షరం/సంఖ్య ఏది?

**Options :**

1. ✖ 8

8

2. ✖ 9

9

3. ✔ T

T

4. ✖ R

R

**Question Number : 63 Question Id : 630680148381 Is Question Mandatory : No Calculator :**

**None Response Time : N.A Think Time : N.A Minimum Instruction Time : 0**

**Correct Marks : 1**

In a certain code language, 'NICER' is written as 'RECIN', and 'CAUSE' is written as 'ESUAC'. How will 'WRONG' be written in that language?

నిర్దిష్ట కోడ్ భాషలో, 'NICER'ని 'RECIN' అని మరియు 'CAUSE'ని 'ESUAC' అని వ్రాసినచో, ఆ భాషలో 'WRONG'ని ఎలా వ్రాస్తారు?

**Options :**

1. ✖ GNROW

GNROW

2. ✔ GNORW

GNORW

3. ✖ GONWR

GONWR

4. ✖ NOWGR

NOWGR

Question Number : 64 Question Id : 630680148382 Is Question Mandatory : No Calculator :

None Response Time : N.A Think Time : N.A Minimum Instruction Time : 0

Correct Marks : 1

In a certain code language, 'FRONT' is written as '618151420'. How will 'PUNCH' be written in that language?

నిర్దిష్ట కోడ్ భాషలో, 'FRONT'ని '618151420' అని వ్రాసినచో, ఆ భాషలో 'PUNCH'ని ఎలా వ్రాస్తారు?

Options :

1. ✘ 16201338

16201338

2. ✘ 15221438

15221438

3. ✘ 16211539

16211539

4. ✔ 16211438

16211438

Question Number : 65 Question Id : 630680148383 Is Question Mandatory : No Calculator :

None Response Time : N.A Think Time : N.A Minimum Instruction Time : 0

Correct Marks : 1

A man is standing in a park facing the east direction. Then he turns 45 degrees clockwise. After that he turns 90 degrees clockwise. In which direction is he facing now?

ఒక వ్యక్తి ఒక పార్కులో తూర్పుకు అభిముఖంగా నిలబడి ఉన్నాడు. అప్పుడు అతను సవ్యదిశలో 45 డిగ్రీలు తిరుగుతాడు. ఆ తర్వాత అతను 90 డిగ్రీలు సవ్యదిశలో తిరుగుతాడు. అతను ఇప్పుడు ఏ దిశకు అభిముఖమై ఉన్నాడు?

**Options :**

1. ✘ North-east

ఈశాన్యం

2. ✘ North-west

వాయువ్యం

3. ✘ South-east

ఆగ్నేయం

4. ✔ South-west

వైరుతి

**Question Number : 66 Question Id : 630680148384 Is Question Mandatory : No Calculator :**

**None Response Time : N.A Think Time : N.A Minimum Instruction Time : 0**

**Correct Marks : 1**

Mohini walks 70 m towards the east direction from her home, and then she turns left and walks 40 m. After that, she turns left and walks 70 m. At what distance and in which direction is she now from her home?

మోహిని తన ఇంటి నుండి తూర్పు దిశలో 70 m నడుస్తుంది, ఆపై ఆమె ఎడమవైపుకు తిరిగి 40 m నడుస్తుంది. ఆ తర్వాత, ఆమె ఎడమవైపు తిరిగి 70 m నడుస్తుంది. ఆమె ఇప్పుడు తన ఇంటి నుండి ఎంత దూరంలో మరియు ఏ దిశలో ఉంది?

**Options :**

1. ✔ 40 m, North

40 m, ఉత్తరం

2. ✘ 70 m, North

70 m, ఉత్తరం

3. ✘ 110 m, South



110 m, దక్షిణం

4. ✖ 40 m, South

40 m, దక్షిణం

**Question Number : 67 Question Id : 630680148385 Is Question Mandatory : No Calculator :**

**None Response Time : N.A Think Time : N.A Minimum Instruction Time : 0**

**Correct Marks : 1**

'A & B' means 'A is the wife of B'

'A % B' means 'A is the father of B'

'A @ B' means 'A is the sister of B'

'A # B' means 'A is the brother of B'

If 'G & N % C @ K # R', then how is G related to R?

'A & B' అనగా 'A అను వ్యక్తి B యొక్క భార్య' అని,

'A % B' అనగా 'A అను వ్యక్తి B యొక్క తండ్రి' అని,

'A @ B' అనగా 'A అను వ్యక్తి B యొక్క సోదరి' అని,

'A # B' అనగా 'A అను వ్యక్తి B యొక్క సోదరుడు' అని అర్థం.

'G & N % C @ K # R' అయినచో, Rకు G ఏమవుతుంది?

**Options :**

1. ✖ Paternal grandmother

నానమ్మ

2. ✔ Mother

తల్లి

3. ✖ Paternal aunt

మేనల్ల

4. ✖ Daughter

కుమార్తె

**Question Number : 68 Question Id : 630680148386 Is Question Mandatory : No Calculator :  
None Response Time : N.A Think Time : N.A Minimum Instruction Time : 0**

**Correct Marks : 1**

Pointing to a photograph of Piyush, a lady Ranjana said, "He is my son's mother's husband". How is Ranjana related to Piyush?

పియూష్ ఫోటోను చూపిస్తూ, రంజన, "అతను నా కుమారుని తల్లి యొక్క భర్త" అని చెప్పినది. పీయూష్‌కి రంజన ఏమవుతుంది?

**Options :**

1. ✖ Sister

సోదరి

2. ✔ Wife

భార్య

3. ✖ Mother

తల్లి

4. ✖ Daughter

కుమార్తె

**Question Number : 69 Question Id : 630680148387 Is Question Mandatory : No Calculator :  
None Response Time : N.A Think Time : N.A Minimum Instruction Time : 0**

**Correct Marks : 1**

Select the option that is related to the fifth letter-cluster in the same way as the second letter-

cluster is related to the first letter-cluster and the fourth letter-cluster is related to the third letter-cluster.

BNT : GSY :: LUR : QZW :: EAP : ?

రెండవ అక్షర సమూహం మొదటి అక్షర సమూహానికి సంబంధించిన విధముగా మరియు నాలుగవ అక్షర సమూహం మూడవ అక్షర సమూహానికి సంబంధించిన విధముగానే ఐదవ అక్షర సమూహానికి సంబంధించిన ఐచ్ఛికాన్ని ఎంచుకోండి.

BNT : GSY :: LUR : QZW :: EAP : ?

**Options :**

1. ✘ KFU

KFU

2. ✘ JGV

JGV

3. ✔ JFU

JFU

4. ✘ JHU

JHU

**Question Number : 70 Question Id : 630680148388 Is Question Mandatory : No Calculator :**

**None Response Time : N.A Think Time : N.A Minimum Instruction Time : 0**

**Correct Marks : 1**

Select the option that is related to the third word in the same way as the second word is related to the first word.

Rudeness : Courtesy :: Huge : ?

రెండవ పదం మొదటి పదానికి సంబంధించిన విధంగానే మూడవ పదానికి సంబంధించిన ఐచ్ఛికాన్ని ఎంచుకోండి.

అమర్యాద : మర్యాద :: భారీ : ?

**Options :**

1. ✖ Large

పెద్దది

2. ✔ Tiny

చిన్న

3. ✖ Empty

ఖాళీ

4. ✖ Long

పొడవు

**Question Number : 71 Question Id : 630680148389 Is Question Mandatory : No Calculator :**

**None Response Time : N.A Think Time : N.A Minimum Instruction Time : 0**

**Correct Marks : 1**

Four word-pairs have been given, out of which three are alike in some manner and one is different. Select the one that is different.

ఇచ్చిన నాలుగు పద జతలలో మూడు ఏదో ఒక రీతిలో ఒకేలా ఉండగా ఒకటి మాత్రం భిన్నంగా ఉంటుంది. భిన్నంగా ఉన్నదానిని ఎంచుకోండి.

**Options :**

1. ✖ Bahamas : North America

బహామాస్: ఉత్తర అమెరికా

2. ✖ Iran : Asia

ఇరాన్: ఆసియా

3. ✓ Japan : Europe

జపాన్: యూరప్

4. ✘ Brazil : South America

బ్రెజిల్: దక్షిణ అమెరికా

**Question Number : 72 Question Id : 630680148390 Is Question Mandatory : No Calculator :  
None Response Time : N.A Think Time : N.A Minimum Instruction Time : 0**

**Correct Marks : 1**

Four letter-cluster pairs have been given, out of which three are alike in some manner and one is different. Select the one that is different.

ఇచ్చిన నాలుగు అక్షర సమూహాలలో మూడు ఏదో ఒక రీతిలో ఒకేలా ఉండగా ఒకటి మాత్రం భిన్నంగా ఉంటుంది. భిన్నంగా ఉన్నదానిని ఎంచుకోండి.

**Options :**

1. ✘ SPY : TRB

SPY : TRB

2. ✓ TOY : URB

TOY : URB

3. ✘ PUN : QWQ

PUN : QWQ

4. ✘ ZEN : AGQ

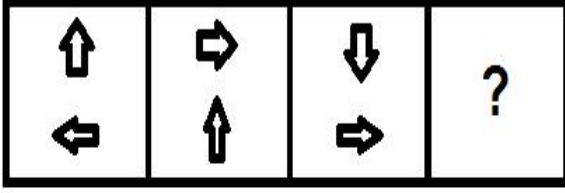
ZEN : AGQ

**Question Number : 73 Question Id : 630680148391 Is Question Mandatory : No Calculator :**

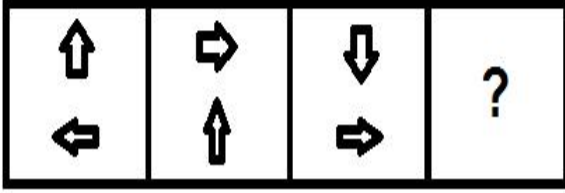
None Response Time : N.A Think Time : N.A Minimum Instruction Time : 0

Correct Marks : 1


Select the figure from among the given options that can replace the question mark (?) in the following series.





క్రింది శ్రేణిలోని ప్రశ్నార్థకాన్ని (?) భర్తీ చేయగల చిత్రాన్ని ఇచ్చిన ఐచ్ఛికాల నుండి ఎంచుకోండి.




Options :






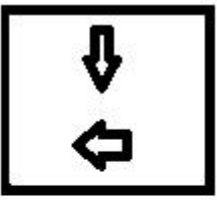
1. ✓



2. ✗



3. ✗



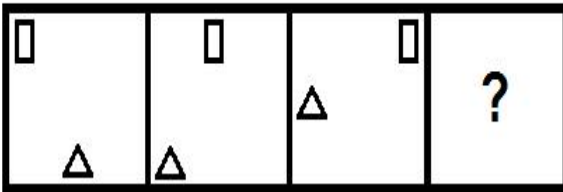
4. ✖

Question Number : 74 Question Id : 630680148392 Is Question Mandatory : No Calculator :

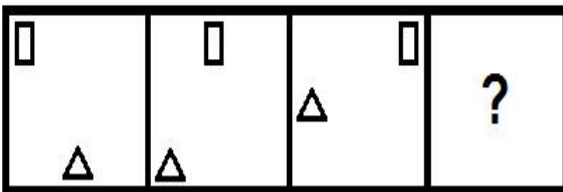
None Response Time : N.A Think Time : N.A Minimum Instruction Time : 0

Correct Marks : 1

Select the figure from among the given options that can replace the question mark (?) in the following series.

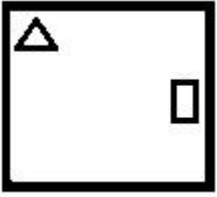
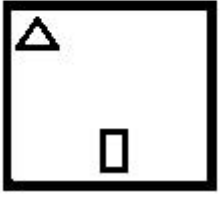
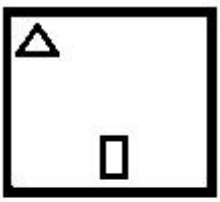


క్రింది శ్రేణిలోని ప్రస్ఫూర్ణకాన్ని (?) భర్తీ చేయగల చిత్రాన్ని ఇచ్చిన ఐచ్ఛికాల నుండి ఎంచుకోండి.

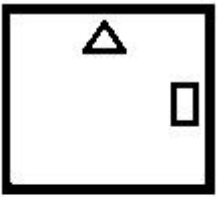
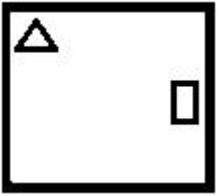


Options :

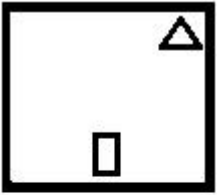
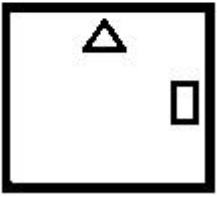
1. ✖



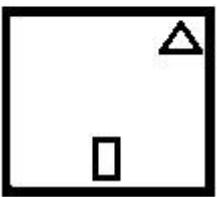
2. ✓



3. ✗



4. ✗





Question Number : 75 Question Id : 630680148393 Is Question Mandatory : No Calculator :  
None Response Time : N.A Think Time : N.A Minimum Instruction Time : 0

Correct Marks : 1

Select the correct mirror image of the given combination when the mirror is placed at 'PQ' as shown.

5 4 7 2 3 |  
P  
Q

చూపిన విధంగా దర్పణాన్ని 'PQ' వద్ద ఉంచుతున్నప్పుడు ఇచ్చిన కలయిక యొక్క సరైన మిర్రర్ ఇమేజ్ (దర్పణ చిత్రం)ని ఎంచుకోండి.

5 4 7 2 3 |  
P  
Q

Options :

2 4 1 5 3

1. ✘ 2 4 1 5 3

3 5 7 4 9

2. ✘ 3 5 7 4 9

3 5 7 4 2

3. ✔ 3 5 7 4 2

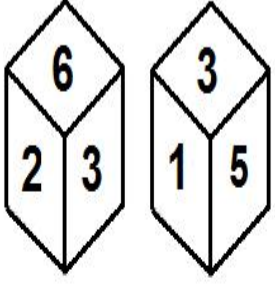
2 4 7 2 3

4. ✘ 2 4 7 2 3

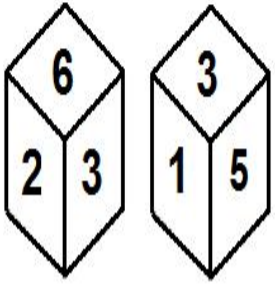
Question Number : 76 Question Id : 630680148394 Is Question Mandatory : No Calculator :  
None Response Time : N.A Think Time : N.A Minimum Instruction Time : 0

**Correct Marks : 1**

Two different positions of the same dice are shown, the six faces of which are numbered from 1 to 6. Select the number that will be on the face opposite to the one showing '3'.



ఒకే పాచిక యొక్క రెండు వేర్వేరు స్థానాలు చూపబడ్డాయి. వీటిలో ఆరు ఫలకాలకు 1 నుండి 6 సంఖ్యలు ఇవ్వబడ్డాయి. '3' సంఖ్య గల ఫలకానికి ఎదురుగా ఉండే ఫలకంపై ఉండే సంఖ్యను ఎంచుకోండి.



**Options :**

1. ✘ 2

2

2. ✔ 4

4

3. ✘ 5

5

4. ✘ 6

6

**Question Number : 77 Question Id : 630680148395 Is Question Mandatory : No Calculator :**

**None Response Time : N.A Think Time : N.A Minimum Instruction Time : 0**

**Correct Marks : 1**

Select the number from among the given options that can replace the question mark (?) in the following series.

21, 25, 34, 50, ?, 111

ఇచ్చిన ఐచ్ఛికాల నుండి క్రింది శ్రేణిలోని ప్రశ్నార్థకాన్ని (?) భర్తీ చేయగల సంఖ్యను ఎంచుకోండి.

21, 25, 34, 50, ?, 111

**Options :**

1. ✖ 65

65

2. ✖ 70

70

3. ✔ 75

75

4. ✖ 80

80

**Question Number : 78 Question Id : 630680148396 Is Question Mandatory : No Calculator :**

**None Response Time : N.A Think Time : N.A Minimum Instruction Time : 0**

**Correct Marks : 1**

Select the number from among the given options that can replace the question mark (?) in the following series.

7, 23, 71, 215, ?

ఇచ్చిన ఐచ్ఛికాల నుండి క్రింది శ్రేణిలోని ప్రశ్నార్థకాన్ని (?) భర్తీ చేయగల సంఖ్యను ఎంచుకోండి.

7,23, 71,215,?

**Options :**

1. ✖ 412

412

2. ✖ 434

434

3. ✖ 542

542

4. ✔ 647

647

**Question Number : 79 Question Id : 630680148397 Is Question Mandatory : No Calculator :  
None Response Time : N.A Think Time : N.A Minimum Instruction Time : 0**

**Correct Marks : 1**

Four number-triads have been given, out of which three are alike in some manner and one is different. Select the one that is different.

ఇచ్చిన నాలుగు సంఖ్యా త్రయాలలో మూడు ఏదో ఒక రీతిలో ఒకేలా ఉండగా ఒకటి మాత్రం భిన్నంగా ఉంటుంది. భిన్నంగా ఉన్నదానిని ఎంచుకోండి.

**Options :**

1. ✖ 5 : 35 : 55

5 : 35 : 55

2. ✖ 4 : 28 : 44

4 : 28 : 44

3. ✖ 6 : 42 : 66

6 : 42 : 66

4. ✓ 7 : 44 : 77

7 : 44 : 77

**Question Number : 80 Question Id : 630680148398 Is Question Mandatory : No Calculator :**

**None Response Time : N.A Think Time : N.A Minimum Instruction Time : 0**

**Correct Marks : 1**

Which two signs should be interchanged to make the following equation correct?

$$30 \div 15 - 28 + 7 \times 3 = 9$$

కింది సమీకరణాన్ని సరిచేయడానికి ఏ రెండు సంకేతాలను పరస్పరం మార్చాల్సి ఉంటుంది?

$$30 \div 15 - 28 + 7 \times 3 = 9$$

**Options :**

1. ✘ + and ×

+ మరియు ×

2. ✘ × and -

× మరియు -

3. ✓ + and -

+ మరియు -

4. ✘ ÷ and ×

÷ మరియు ×